

Вариант № 2

Инструкция по выполнению работы

Диктант Победы состоит из 25 заданий, 15 из которых с выбором варианта ответа и 10 заданий с кратким ответом. Ответы необходимо написать в бланк ответов. Номера заданий с выбором ответа (1-13, 21-22) расположены горизонтально на бланке ответов, под каждым номером задания находится столбец из 4 квадратиков, соответствующих вариантам ответа на задание. Ответ на задания с выбором ответа записывается в виде символа «X» («крестик»), которым отмечается выбранный вами вариант.

Номера заданий с кратким ответом (14-20, 23-25) расположены вертикально на бланке ответов, ответ записывается справа от номера задания в бланке ответов. Не разрешается использовать при записи ответа на задания с кратким ответом никаких иных символов, кроме символов кириллицы и арабских цифр. Записывайте буквы и цифры в соответствии с образцом на бланке. Каждая цифра, символ записывается в отдельную клетку. Будьте аккуратны. Небрежное написание символов может привести к тому, что при автоматизированной обработке символ может быть распознан неправильно.

Ответ: 321

3	2	1							
---	---	---	--	--	--	--	--	--	--

Ответ: Подвиг

П	О	Д	В	И	Г				
---	---	---	---	---	---	--	--	--	--

Обращаем ваше внимание, что на бланке ответов запрещается делать какие-либо записи и пометки, не относящиеся к ответам на задания. Вы можете делать пометки в заданиях Диктанта Победы. Также обращаем ваше внимание на то, что ответы, записанные в заданиях Диктанта, не проверяются.

Желаем успеха!

К каждому заданию 1 – 13 даны несколько ответов, из которых только один верный. Выберите верный, по Вашему мнению, ответ. В бланке ответов под номером задания поставьте крестик (X) в клеточке, номер которой равен номеру выбранного Вами ответа.

1

Рассмотрите изображение и ответьте на вопрос.

Мемориальный комплекс, возведённый в 1960 г. в Одессе в честь её защитников и освободителей периода Великой Отечественной войны, является одним из архитектурных символов этого города-героя.

Какое название носит данный памятник?

- 1) «Неизвестному солдату»
- 2) «Неизвестному матросу»
- 3) «Героям-черноморцам»
- 4) «Героям-одесситам»



2

Прочитайте отрывок из воспоминаний Маршала Советского Союза И.Х. Баграмяна и укажите, с освобождением какого города связаны события 1941 г., о которых идёт речь.

«В весьма щекотливом положении оказалась фашистская пропаганда. Ведь с 21 ноября она на всех перекрёстках Европы кричала о захвате _____ и об уничтожении «армий Тимошенко». Теперь нужно было объяснить, как «уничтоженные» армии взяли обратно _____ и побили хвалёного танкового генерала Клейста. <...>

Однако фашистским потомкам барона Мюнхаузена не удалось ввести в заблуждение общественное мнение. Мировая печать отмечала огромное значение победы советских войск под _____. Обозреватель «Ассошиэйтед пресс» Симпсон писал: «Отступление немцев из _____, по-видимому, является самым тяжёлым поражением германских вооружённых сил за всю войну». Газета «Дейли ньюс» извещала своих читателей, что «уже одна потеря _____ представляет собой самое крупное поражение, которое Гитлер понёс на каком-либо фронте за всю войну». А турецкая газета «Улус» с недоумением спрашивала: как могло случиться, что спустя два месяца после сообщения гитлеровского верховного командования об уничтожении Красной Армии эта армия захватывает обратно _____?..».

- 1) Ростов-на-Дону
- 2) Харьков
- 3) Краснодар
- 4) Таганрог

3

Рассмотрите изображение и выполните задание.

«Главный свой подвиг он совершил в Великую Отечественную, хотя и не участвовал в ней», - говорили об этом человеке его сослуживцы, отмечая его вклад в развитие советской авиации перед войной. Авторитетнейший лётчик, генерал-лейтенант авиации, герой боёв в Испании и на реке Халхин-Гол, начальник Военно-воздушных сил Красной армии в 1939-1940 гг., он стал единственным за всю историю СССР дважды Героем Советского Союза, погибшим в ходе репрессий. В октябре 1941 г., когда немецко-фашистские войска рвались к Москве, он был без суда расстрелян под Куйбышевом (такое название в 1935-1991 гг. носил город Самара) в составе группы военных деятелей, обвинявшихся в измене (посмертно все они реабилитированы).

Назовите фамилию этого военачальника.



- 1) И.И. Проскуров
- 2) П.В. Рычагов
- 3) Я.В. Смушкевич
- 4) Э.Г. Шахт

4

Прочитайте отрывок из воспоминаний генерал-майора Н.Г. Штыкова и определите, к какому году относятся события, о которых идёт речь.

«Ессентуки уже превратились в прифронтовой город. Во всяком случае, в город-госпиталь. Бои шли не так уж и далеко от него, перекинувшись в июне через Керченский пролив на Таманский полуостров. В город усилился приток раненых. Под госпитали использовались не только санатории и дома отдыха, но и общественные здания. Раненых размещали у себя и местные жители. И надо сказать, что заботились они о них как о самых близких и родных.

В госпитале, куда я попал, сёстры и няни тоже буквально ни на шаг не отходили от тяжело раненых, дежурили у их коек. <...>

После госпиталя я получил направление в 6-ю армию Воронежского фронта, где был назначен заместителем командира 173-го армейского запасного полка. Он размещался в прифронтовой полосе и готовил для войск первой линии маршевые роты. <...>

6-я армия, в состав которой входил 173-й запасной полк, в те дни вела тяжёлые оборонительные бои на воронежском направлении. Её соединения остро нуждались в пополнении. Поэтому штаб армии непрерывно требовал от нас срочной отправки всё новых и новых маршевых рот. Так что забот у нас хватало».

- 1) 1941
- 2) 1942
- 3) 1943
- 4) 1944

5 Композитор Константин Листов (слева) – автор многих известных советских песен. Из них наиболее любимой фронтовиками стала та, которую он написал в 1942 г. на стихи поэта Алексея Суркова (справа), созданные в конце ноября 1941 г.

Назовите эту песню.



- 1) «В землянке»
- 2) «Жди меня»
- 3) «Заветный камень»
- 4) «Прощайте, скалистые горы»

6 Прочитайте отрывок из работы военного историка и назовите генерала, будущего Маршала Советского Союза, чья фамилия пропущена в тексте. Этот военачальник в 1942-1943 гг. командовал армией, которая сыграла принципиально важную роль в описываемых событиях и о поддержке которой идёт речь в данном отрывке.

«... удар 57-й и 51-й армий был не настолько мощным, чтобы вынудить врага изменить группировку сил непосредственно в городе, где он продолжал настойчиво атаковать. 29-30 сентября гитлеровцам удалось овладеть посёлками заводов «Баррикады» и «Красный Октябрь».

В связи с новым осложнением обстановки в полосе 62-й армии командующий фронтом передал в распоряжение генерала _____ 39-ю гвардейскую стрелковую дивизию под командованием генерала С.С. Гурьева, приказав использовать её для усиления обороны в районе завода «Красный Октябрь». В это же время в районах Красного Буксира и Цыганской Зари начали сосредотачиваться 308-я стрелковая дивизия полковника Л.Н. Гуртьева и 37-я гвардейская стрелковая дивизия генерала В.Г. Жолудева».

- 1) Н.И. Крылов
- 2) И.И. Людников
- 3) А.И. Родимцев
- 4) В.И. Чуйков

7 Рассмотрите изображение и ответьте на вопрос.

На картине представлена встреча бойцов Ленинградского и Волховского фронтов, состоявшаяся в ходе наступательной операции «Искра» и ознаменовавшая собой прорыв блокады Ленинграда.

Когда был осуществлён этот героический прорыв?

- 1) ноябрь 1942 г.
- 2) декабрь 1942 г.
- 3) январь 1943 г.
- 4) февраль 1943 г.



8

Название какой немецкой провинции, ныне не существующей, связано с одной из крупнейших наступательных операций Красной армии на завершающем этапе Великой Отечественной войны?

Данная операция проводилась в январе-апреле 1945 г. силами 2-го и 3-го Белорусских фронтов.

- 1) Верхняя Силезия
- 2) Восточная Пруссия
- 3) Западная Пруссия
- 4) Нижняя Силезия

9

В 1943 г. этому писателю за сборник его военных рассказов была присуждена Сталинская премия, которую он перевёл в Фонд обороны с просьбой построить на перечисленные им средства сторожевой катер для Черноморского флота, одноимённый с его премированной книгой. Ключевое словосочетание фигурирует в приводимом ниже фрагменте авторского текста.

Назовите этого видного советского писателя-мариниста.

«Морская душа – это стремление к победе. Сила моряков неукротима, настойчива, целеустремлённа. Поэтому-то враг и зовёт моряков на суше «чёрной тучей», «чёрными дьяволами».

Если они идут в атаку – то с тем, чтобы опрокинуть врага во что бы то ни стало.

Если они в обороне – они держатся до последнего, изумляя врага немыслимой, непонятной ему стойкостью.

И когда моряки гибнут в бою, они гибнут так, что врагу становится страшно: моряк захватывает с собой в смерть столько врагов, сколько он видит перед собой.


В ней – в отважной, мужественной и гордой морской душе – один из источников победы».

- 1) С.Н. Сергеев-Ценский
- 2) А.С. Новиков-Прибой
- 3) Л.С. Соболев
- 4) А.А. Первенцев



10

Рассмотрите изображения и ответьте на вопрос.



Наибольшие потери в живой силе немецко-фашистские войска несли от огня советских миномётов. В Красной армии это грозное оружие называли «шавыринским» - по фамилии конструктора, руководившего разработкой и усовершенствованием советского миномётного вооружения.

В каком подмосковном городе, удостоенном в мае 2021 г. почётногo звания «Город трудовой доблести», действовало Специальное конструкторское бюро гладкоствольной артиллерии (СКБ ГА), образованное в 1942 г. и возглавлявшееся Б.И. Шавыриным?


- 1) Серпухов
- 2) Коломна
- 3) Кашира
- 4) Зарайск

11

Рассмотрите изображение и выполните задание.

Этот партизанский командир воевал в соединении С.А. Ковпака, которое потом и возглавил. Под его руководством в 1944 г. были проведены рейды в Польшу и Западную Белоруссию, а после войны он выпустил книгу «Люди с чистой совестью», посвящённую подвигам ковпаковцев.

Назовите фамилию этого знаменитого советского партизана и писателя.



- 1) П.П. Вершигора
- 2) Д.Н. Медведев
- 3) М.И. Наумов
- 4) А.Ф. Фёдоров

12

В июне 1944 г. совершил свой легендарный подвиг гвардии красноармеец Юрий Смирнов, участвовавший в ночном танковом десанте, попавший раненым в плен, героически выдержавший допрос и пытки, не сказав противнику ничего, и распятый гитлеровцами в блиндаже на крестовине из досок. Посмертно ему присвоено звание Героя Советского Союза.

Назовите республику в составе СССР, на территории которой был совершён подвиг Юрия Смирнова.



- 1) Литва
- 2) Украина
- 3) Белоруссия
- 4) Молдавия

13

Рассмотрите изображение и ответьте на вопрос.

Событие, запечатлённое на этой фотографии, - вступление советских войск в столицу Румынии Бухарест, состоявшееся 31 августа 1944 г.

Победоносное завершение какой наступательной операции позволило Красной армии войти в Бухарест без штурма и вывести Румынию из числа стран-союзниц гитлеровской Германии?



- 1) «Багратион»
- 2) «Полководец Румянцев»
- 3) Дебреценская
- 4) Ясско-Кишинёвская

Ответы на задания 14 – 20 запишите на бланке ответов рядом с номером задания, начиная с первого окошка. Ответом могут быть цифры или слова. Каждую букву слова или цифру числа пишите в отдельном окошке по приведенным образцам.

14 **Расположите указанные события в хронологическом порядке. Запишите цифры, которыми обозначены исторические события, в правильной последовательности в таблицу.**

- 1) полное снятие блокады Ленинграда
- 2) повторный захват немецко-фашистскими войсками Ростова-на-Дону
- 3) взятие советскими войсками Зееловских высот
- 4) операция немецко-фашистских войск «Цитадель»


Ответ:

--	--	--	--	--

15 **Рассмотрите изображение и выполните задание.**

В годы Великой Отечественной войны этот живописец создал знаменитый триптих «Александр Невский», а по окончании войны – не менее известный портрет Маршала Советского Союза Г.К. Жукова, ставший одной из вершин его портретного творчества и одобренный самим Жуковым.

Назовите фамилию этого выдающегося живописца.



Ответ: _____

16 **Рассмотрите кадр из художественного фильма, снятого в 1964 г. режиссёром Резо Чхеидзе.**

В основе сюжета – история пожилого грузинского крестьянина Георгия Махарашвили, который отправился навестить своего раненого сына-танкиста, не застал его в госпитале (сын вылезился и отбыл на фронт), сам оказался в рядах действующей армии, воевал и, наконец, встретился с сыном, но их встреча была недолгой: получив смертельное ранение в бою, Махарашвили-младший скончался на руках отца. Роль Георгия Махарашвили – крупнейшая работа в кино великого грузинского советского актёра Серго Закариадзе, принёсшая ему всемирную известность.

Укажите название фильма.



Ответ: _____

17

Рассмотрите изображение и выполните задание.

Этот памятник - «Героям фронта и тыла» - находится в крупном промышленном городе, областном центре, предприятия которого в период Великой Отечественной войны активно поставляли Красной армии свою текстильную продукцию (в июле 2020 г. городу присвоено почётное звание «Город трудовой доблести»). Здесь же была сформирована французская эскадрилья «Нормандия», позднее преобразованная в истребительный авиационный полк «Нормандия-Неман».



Укажите название города.

Ответ: _____

18

Рассмотрите изображение и выполните задание.

2 февраля 1943 г., в день завершения Сталинградской битвы, была учреждена медаль «_____ Отечественной войны». В отличие от других медалей, существовавших тогда в СССР, она имела две степени, а также стала первой наградой среди советских орденов и медалей, на которой было представлено профильное изображение В.И. Ленина и И.В. Сталина.

Укажите слово, пропущенное в её названии и чётко определяющее категорию участников Великой Отечественной войны, награждавшихся данной медалью.



Ответ: _____

19

Рассмотрите изображение и ответьте на вопрос.

В какой стране до и в начале Великой Отечественной войны действовал этот выдающийся советский разведчик, внёсший добытыми его группой сведениями неоценимый вклад в разгром немецко-фашистских войск под Москвой?



Ответ: _____

20

Рассмотрите изображения и выполните задание.

Плакат, изданный в 1942 г., воспевал героизм тружеников тыла, подчёркивал значимость их свершений в борьбе с врагом. А в 1985 г., к 40-летию Победы, вышел четырёхсерийный художественный фильм «Батальоны просят огня», снятый режиссёром-фронтовиком Владимиром Чеботарёвым по одноимённой повести писателя-фронтовика Юрия Бондарева. Одну из наиболее ярких ролей в этом фильме - роль старшего лейтенанта Орлова, героически сражающегося и гибнущего в неравном бою за Днепром, - и песню на стихи поэта-фронтовика Михаила Матусовского, звучащую в титрах после каждой серии, исполнил сын автора плаката, популярный актёр театра и кино.

Назовите фамилию этих двух деятелей отечественного искусства - художника и артиста.



Ответ: _____

К каждому заданию 21 – 22 даны несколько ответов, из которых только один верный. Выберите верный, по Вашему мнению, ответ. В бланке ответов под номером задания поставьте крестик (X) в клеточке, номер которой равен номеру выбранного Вами ответа.

21

Рассмотрите изображение и выполните задание.

9-10 октября 1942 года в оккупированной Ростовской области нацистские оккупанты уничтожили 214 детей, в большинстве своём с особенностями умственного и физического здоровья, эвакуированных в _____ из Симферопольского детского дома. В 2021 году Следственный комитет Российской Федерации после изучения архивного дела ФСБ принял решение возбудить уголовное дело о геноциде по факту убийства детдомовцев в 1942 году, основываясь на том, что уничтожение гражданского населения квалифицируется как преступление против человечности и не имеет срока давности.

Назовите город, в районе которого произошло это преступление.



- 1) Ростов-на-Дону
- 2) Ейск
- 3) Таганрог
- 4) Новочеркасск

22

Рассмотрите изображение и выполните задание.

Премьер-министр Великобритании так описал роль этого города в истории Великой Отечественной войны: «_____ стал символом мужества, стойкости русского народа и вместе с тем символом величайшего человеческого страдания. Этот символ сохранится в веках».

О каком городе идёт речь?



- 1) Сталинград
- 2) Краснодар
- 3) Севастополь
- 4) Майкоп

Ответы на задания 23 – 25 запишите на бланке ответов рядом с номером задания, начиная с первого окошка. Ответом могут быть цифры или слова. Каждую букву слова или цифру числа пишите в отдельном окошке по приведенным образцам.

23

Этой десантной операции Владимир Высоцкий посвятил песню «Чёрные бушлаты», четверостишие из которой приводится ниже. Десантная операция с моря проводилась в одном из оккупированных городов Крыма в январе 1942 года и ставила целью отвлечь силы противника от осаждённого Севастополя и боевых действий на Керченском полуострове.

О каком городе идёт речь?

За нашей спиной остались паденья, закаты,
Ну хоть бы ничтожный, ну хоть бы невидимый взлёт!
Мне хочется верить, что чёрные наши бушлаты
Дадут нам возможность сегодня увидеть восход.

Ответ: _____

24 Этот город стал одним из символов стойкости советских солдат и моряков. Его оборона длилась 250 дней, с 30 октября 1941 по 4 июля 1942 года. Город освободили 9 мая 1944 года.

О каком городе идёт речь?

На Малахов курган
Опустился туман.
В эту ночь вы на пристань пришли
Проводить корабли.
И с тех пор в краю любом
Вспоминал я милый дом.

Ответ: _____

25 В 1943 году советским командованием был разработан план «Море», задачей которого являлось освобождение Новороссийска от немецко-фашистских захватчиков. В рамках плана предполагалось высадить два десанта – основной и отвлекающий. Вопреки расчётам командования, основной десант потерпел неудачу, в то время как отвлекающий десант в районе с. Мысхако сумел не только закрепиться на вверенном ему участке, но и вести наступательные бои до прибытия основных сил. Во многом успешные действия вспомогательного десанта объясняются грамотными действиями его командира – будущего Героя Советского Союза (посмертно). Примечательно, что у талантливого командира было точно такое же имя, как и у одного из самых прославленных древнеримских военачальников.



Назовите командира этой десантной операции.

Ответ: _____